

1. Mehmet Efe, Güneş sistemindeki bazı gezegenleri Güneş'e uzaklıklarına göre sıralamıştır.




Venüs Dünya Jüpiter Mars

Mehmet Efe'nin yaptığı sıralama ile ilgili aşağıdakilerden hangisi doğrudur?

- A) Sıralama doğrudur.  
B) Mars ile Dünya yer değiştirmelidir.  
C) Mars ile Venüs yer değiştirmelidir.  
D) Jüpiter ile Mars yer değiştirmelidir.
2. Yağız gökyüzünde parlak bir cisim görmüş ve babasına bu cismin ne olduğunu sormuştur. Babasından "Çoban Yıldızı" cevabını alan Yağız, bu gök cismi ile ilgili araştırmalar yapmıştır. Aşağıdakilerden hangisi Yağız'ın bu gök cismi ile ilgili yapmış olduğu araştırmalar sonucu ulaşacağı doğru bir bilgi değildir?
- A) Isı ve ışık kaynağıdır.  
B) Venüs gezegenidir.  
C) Büyüklüğü Dünya'ya yakındır.  
D) Güneş'e Dünya'dan daha yakındır.

3. Güneş sistemi içerisinde 8 farklı gezegen vardır.



Aşağıdakilerden hangisi bu gezegenler arasında yer almaz?

- A) Merkür B) Jüpiter  
C) Plüton D) Satürn

4. Elif Feyza, Güneş sistemi ile ilgili bazı bilgilere ulaşıyor.

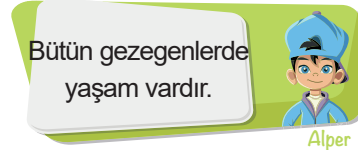
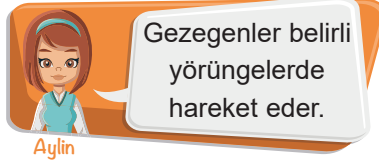
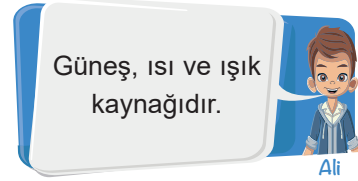


- I. Dünya'mızın da içerisinde yer aldığı sistemdir.  
II. Farklı özelliklerde gezegenler bulunur.  
III. Güneş sistemindeki bütün gezegenlerin uydusu vardır.

Elif Feyza'nın ulaştığı bilgilerden hangileri doğrudur?

- A) Yalnız I B) I ve II  
C) II ve III D) I, II ve III

5. Güneş sistemi ile ilgili öğrenciler farklı açıklamalar yapıyor.



Hangi öğrencilerin açıklaması doğrudur?

- A) Yalnız Ali B) Ali ve Aylin  
C) Alper ve Aylin D) Ali, Aylin ve Alper

6. Güneş sistemi içerisinde yer alan ve Güneş etrafında dolanan gök cisimleridir. Etraflarında dolanan uyduları olabilir.

Açıklamanın ait olduğu gök cismi aşağıdakilerden hangisidir?

- A) Güneş B) Ay  
C) Meteor D) Gezegen

7. Aysima, Güneş sisteminde yer alan bir gezegen ile ilgili öğretmenine sorular soruyor:

**Aysima:** Halkası var mı?

**Öğretmen:** Hayır.


**Aysima:** Dünya'dan büyük mü?

**Öğretmen:** Hayır.

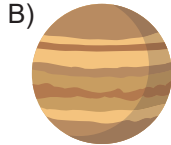
**Aysima:** Güneş'e Venüs'ten yakın mı?

**Öğretmen:** Evet.

**Diyaloga göre Güneş sistemindeki bu gezegen aşağıdakilerden hangisidir?**




Merkür



Jüpiter



Dünya



Mars

8. Dünya'mız Güneş sisteminde yer alan bir gezegendir.



**Dünya'mız ile ilgili aşağıdaki bilgilerden hangisi yanlıştır?**

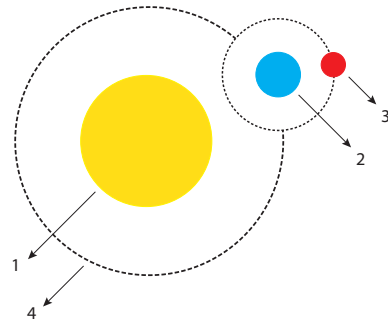
- A) Doğal uydusu Ay'dır.  
B) Üzerinde yaşam olan tek gezegendir.  
C) Güneş'e Venüs'ten daha yakındır.  
D) Jüpiter'den daha küçük bir gezegendir.

9. Gezegenler Güneş'e farklı uzaklıklardaki yörüngelerde dolanırlar.

**Aşağıda verilen gezegen ikililerinden hangisi Güneş'e uzaklık sıralamasında yan yana yer almaz?**

- A) Merkür-Venüs  
B) Dünya-Mars  
C) Venüs-Neptün  
D) Jüpiter-Satürn

10. Utku'nun Güneş sistemi ile ilgili farklı büyüklükte toplar ve ip kullanarak yaptığı etkinlik görülmektedir.



**Utku'nun yaptığı etkinlik ile ilgili aşağıdaki bilgilerden hangisi yanlıştır?**

- A) 1 numaralı top Güneş'i temsil etmektedir.  
B) 4 numaralı ip gezegenlerin hareket ettiği yörüngeleri temsil etmektedir.  
C) 3 numaralı top gezegeni temsil etmektedir.  
D) 2 numaralı top Dünya'yı temsil ediyor olabilir.

11. Beyza ve Rümeyza gezegenler ile ilgili bir oyun oynuyorlar. Hazırladıkları kartların üzerine Güneş sistemindeki gezegenlerin adlarını yazıyorlar ve kartları, gezegenlerin büyüklüğüne göre büyükten küçüğe doğru sıralıyorlar.

**Beyza'nın Kartları**

Dünya

Mars

Merkür

**Rümeyza'nın Kartları**

Jüpiter

Satürn

Uranüs

**Beyza ve Rümeyza'nın kartlarının dizilimi yukarıdaki gibi olduğuna göre yapılan dizilimler ile ilgili aşağıdakilerden hangisi söylenebilir?**

- A) Sadece Beyza'nın yaptığı dizilim doğrudur.  
B) Sadece Rümeyza'nın yaptığı dizilim doğrudur.  
C) İkisinin yaptığı dizilim de doğrudur.  
D) İkisinin yaptığı dizilim de yanlıştır.

12. Güneş sistemindeki bazı gezegenler ile ilgili bilgiler veriliyor.

- Dünya'nın ikizi olarak bilinir.
- Kızıl gezegen de denir.
- Üzerinde yaşam olan tek gezegendir.

**Verilen bilgiler arasında aşağıdaki gezegenlerden hangisine ait bilgi yer almaz?**

- A) Satürn  
B) Dünya  
C) Venüs  
D) Mars

## CEVAP ANAHTARI

Soru No	Cevap
1	D
2	A
3	C
4	B
5	B
6	D
7	A
8	C
9	C
10	C
11	C
12	A